




Khởi động



Em hãy đo độ dài
hộp bút của em



Bài 28:
Luyện tập chung





Luyện tập

1

Đồ vật nào dài hơn?



a)



b)



2

Bạn nào cao nhất?

Cao nhất



Nam

Thấp nhất



Mi



Việt




Mai

Ngựa hay hươu cao cổ cao hơn?



Thước hay
bút chì dài
hơn?



4

Đo độ dài n... đồ



8 cm



6 cm



12 cm

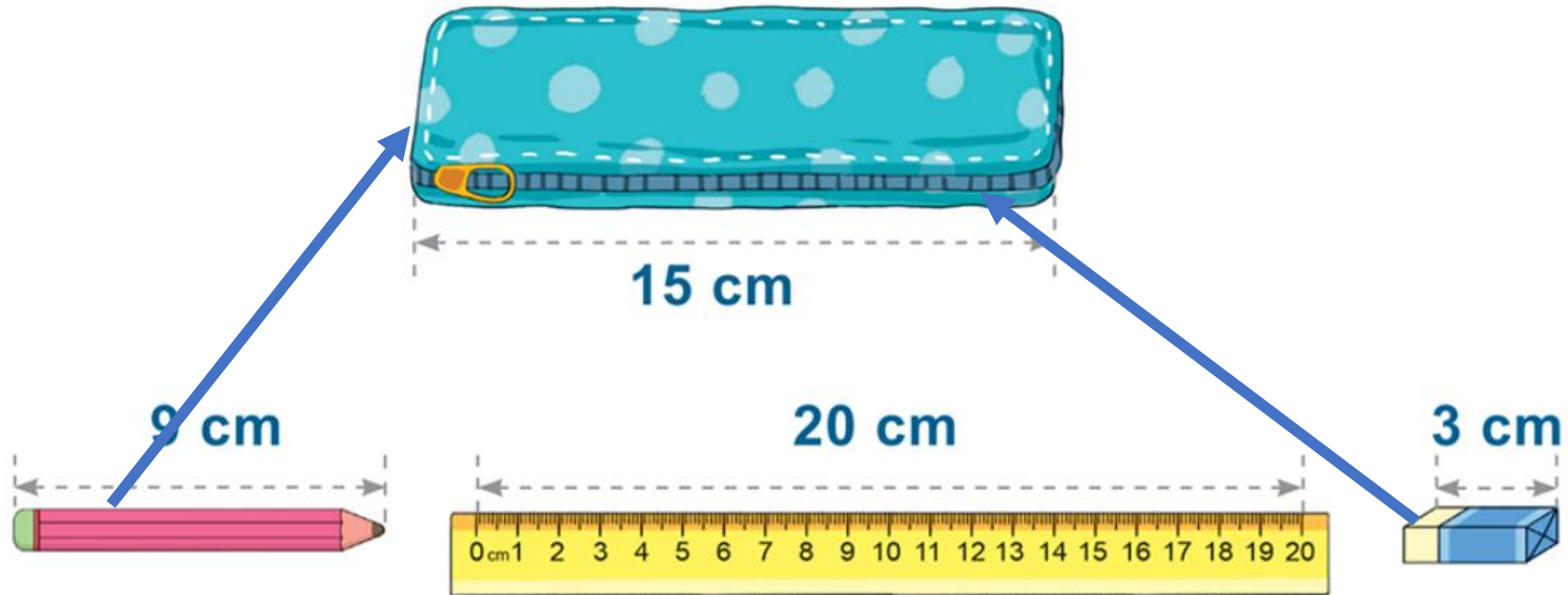


10 cm





Đồ vật nào dưới đây cho
được vào trong hộp bút?





**Tạm biệt
và hẹn gặp lại**